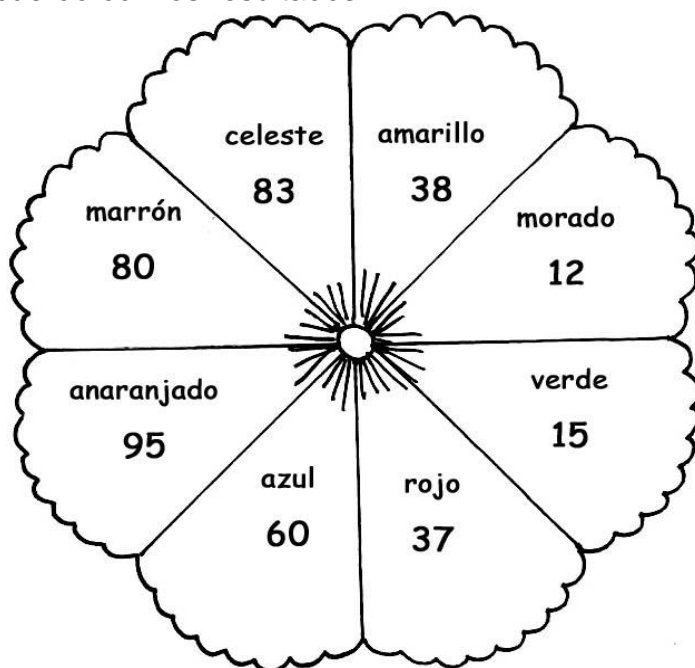




## CONOCIENDO NÚMEROS HASTA EL 99

1. Pinta la flor de acuerdo con los resultados.



$9D + 5U = \square$

$25 + 12 = \square$

$45 - 33 = \square$

$8D + 3U = \square$

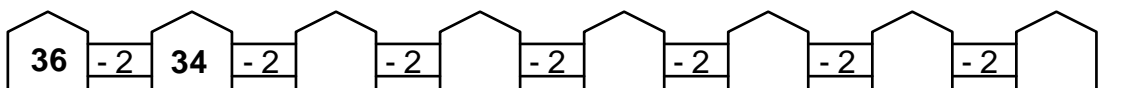
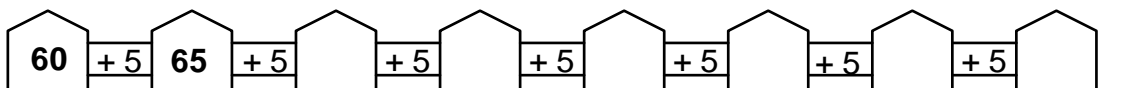
$78; 79; \square; 81; 82$

$24 + 11 + 3 = \square$

$9D - 3D = \square$

$98 - 83 = \square$

2. Completo la serie de números:



FORMO UNA CENTENA Y UBICO EN EL TABLERO.

1 centena = 10 decenas = unidades. ⇨

C	D	U
1	0	0