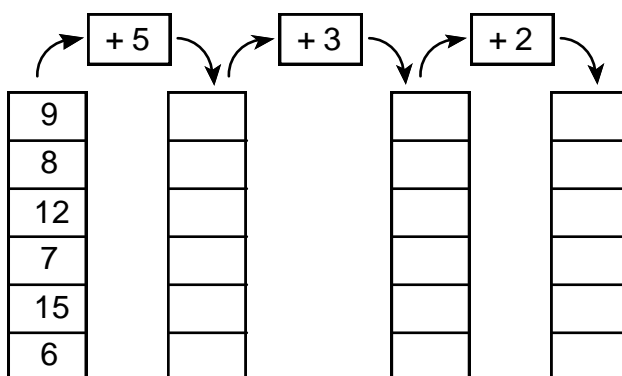




CONTANDO NUMEROS

1. Piensa y resuelve:



2. Pinta los números de la tabla según indica:

1	2	3	4	5	6	7	8	9	10
11	12	13	14	15	16	17	18	19	20
21	22	23	24	25	26	27	28	29	30
31	32	33	34	35	36	37	38	39	40
41	42	43	44	45	46	47	48	49	50

• De 2 en 2, luego escríbelos:

2 - 4

.....

1	2	3	4	5	6	7	8	9	10
11	12	13	14	15	16	17	18	19	20
21	22	23	24	25	26	27	28	29	30
31	32	33	34	35	36	37	38	39	40
41	42	43	44	45	46	47	48	49	50

- De 3 en 3, luego escríbelos:

3 - 6

.....

1	2	3	4	5	6	7	8	9	10
11	12	13	14	15	16	17	18	19	20
21	22	23	24	25	26	27	28	29	30
31	32	33	34	35	36	37	38	39	40
41	42	43	44	45	46	47	48	49	50

- De 5 en 5, luego escríbelos:

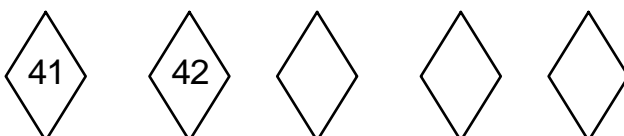

5 - 10

1	2	3	4	5	6	7	8	9	10
11	12	13	14	15	16	17	18	19	20
21	22	23	24	25	26	27	28	29	30
31	32	33	34	35	36	37	38	39	40
41	42	43	44	45	46	47	48	49	50

- De 10 en 10, luego escríbelos:

10 -

- Escribe los números que faltan para completar las series en forma ascendente:



4. Ordena las series en forma descendente:

40	38			
50	40			
40	35			
31	30			
20	17			



TAREA DOMICILIARIA

1. En tu cuaderno escribe en forma ASCENDENTE del 0 al 99.
2. En tu cuaderno escribe en forma DESCENDENTE del 99 al 0.

