



## DOBLE Y MITAD

01. ¿Cuál es el doble de 3?

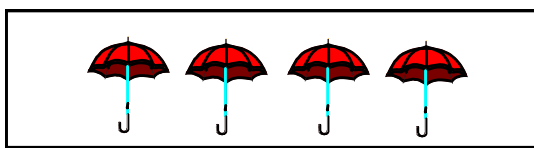



El doble de 3 es .....

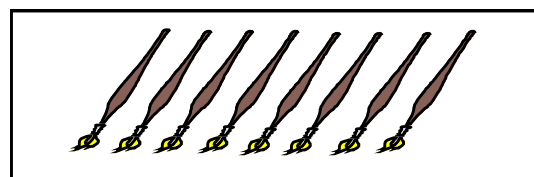
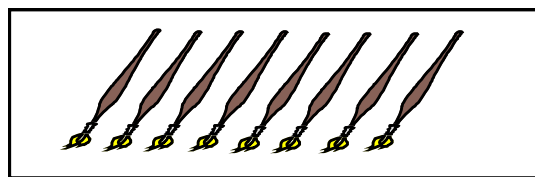
02. Calculo el doble escribe.



El doble de 5 es 10 →  $5 + 5 = 10$



El doble de 4 es  →  +  =



El doble de 8 es  →  +  =

03. Dibujo y hallo el doble

	Número	Doble	
6	<input type="checkbox"/> <input type="checkbox"/> <input type="checkbox"/> <input type="checkbox"/> <input type="checkbox"/> <input type="checkbox"/>	<input type="checkbox"/> <input type="checkbox"/> <input type="checkbox"/> <input type="checkbox"/> <input type="checkbox"/> <input type="checkbox"/> <input type="checkbox"/> <input type="checkbox"/>	12
7	<input type="checkbox"/> <input type="checkbox"/> <input type="checkbox"/> <input type="checkbox"/> <input type="checkbox"/> <input type="checkbox"/> <input type="checkbox"/>		
8	<input type="checkbox"/> <input type="checkbox"/> <input type="checkbox"/> <input type="checkbox"/> <input type="checkbox"/> <input type="checkbox"/> <input type="checkbox"/> <input type="checkbox"/>		
9	<input type="checkbox"/> <input type="checkbox"/> <input type="checkbox"/> <input type="checkbox"/> <input type="checkbox"/> <input type="checkbox"/> <input type="checkbox"/> <input type="checkbox"/> <input type="checkbox"/>		
10	<input type="checkbox"/> <input type="checkbox"/> <input type="checkbox"/> <input type="checkbox"/> <input type="checkbox"/> <input type="checkbox"/> <input type="checkbox"/> <input type="checkbox"/> <input type="checkbox"/> <input type="checkbox"/>		

04. Calcula el doble y escríbelo.

8      10      15      17

5      12      25

11      4      22      13

6      18      30      24

05. Piensa y completa, escribiendo el doble.

1 2 3 4 5 6 7 8 9 10

doble

10 20 30 40 50 35 45 25 33 42

doble

