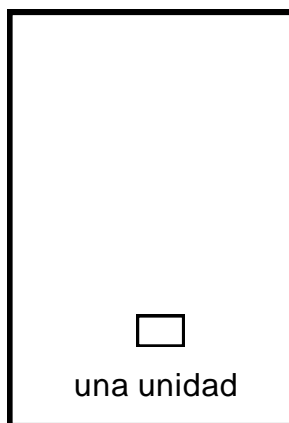
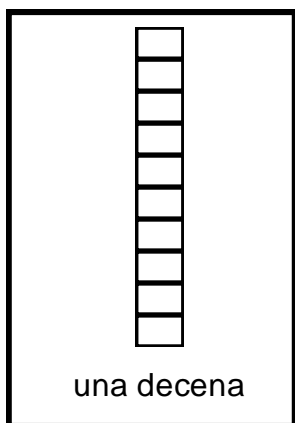




LA UNIDAD Y LA DECENA

REPRESENTACIÓN GRÁFICA



a) 1 decena y 5 unidades → 15

b) 1 decena y ___ unidades → ___

c) 1 decena y ___ unidades → ___

d) 1 decena y ___ unidades → ___

| | |
|--|--|
| <p>e)</p> <p>1 decena y ___ unidades → ___</p> | <p>f)</p> <p>1 decena y ___ unidades → ___</p> |
| <p>g)</p> <p>1 decena y ___ unidades → ___</p> | <p>h)</p> <p>1 decena y ___ unidades → ___</p> |
| <p>i)</p> <p>1 decena y ___ unidades → ___</p> | <p>j)</p> <p>1 decena y ___ unidades → ___</p> |

1. Marca la respuesta correcta:

A. En una decena hay:

- a) 100 unidades b) 10 unidades c) 1 unidad

B. El numeral $3u + 3d$ es:

- a) 130 b) 13 c) N.a.

C. El número catorce es:

- a) 41 b) 401 c) 14

D. Representa a las decenas:

- a) b) c)



TAREA DOMICILIARIA


1. María quiere tener 10 figuras en cada cuadro. Agrega o quita según corresponda. Marca con x las que sobran.

| | |
|--|--|
| | |
| | |

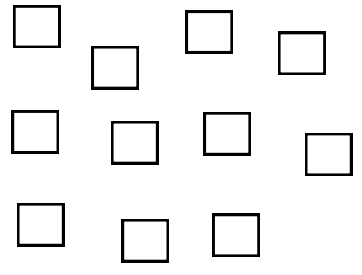
2. Marco quiere hacer un collar para su mamá, y en cada collar coloca 10 cuentas. Observa y completa las que faltan, además escribe los números en el casillero.

| | | | | | | | |
|---|---|--|---|--|---|--|--|
| <table border="1"> <tr><td>○</td><td> </td></tr> <tr><td>△</td><td> </td></tr> <tr><td>□</td><td> </td></tr> </table> | ○ | | △ | | □ | | |
| ○ | | | | | | | |
| △ | | | | | | | |
| □ | | | | | | | |
| <p>_____</p> | | | | | | | |
| <table border="1"> <tr><td>○</td><td> </td></tr> <tr><td>△</td><td> </td></tr> <tr><td>□</td><td> </td></tr> </table> | ○ | | △ | | □ | | |
| ○ | | | | | | | |
| △ | | | | | | | |
| □ | | | | | | | |
| <p>_____</p> | | | | | | | |

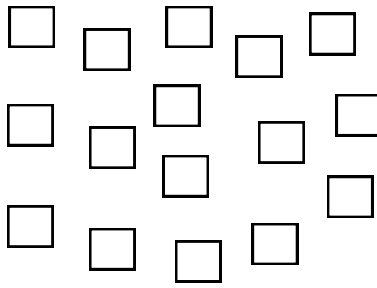
3. Agrupa 10 y canjea por uno. Anota el número de decenas y de unidades.



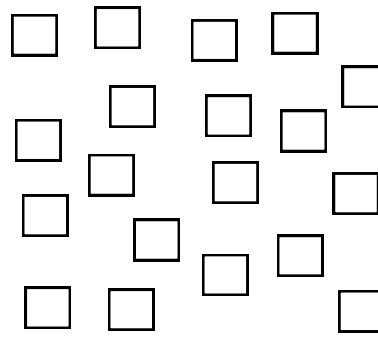
| | |
|----|---|
| 10 | 5 |
| D | U |
| | |




| | |
|----|---|
| 10 | 5 |
| D | U |
| | |




| | |
|----|---|
| 10 | 5 |
| D | U |
| | |



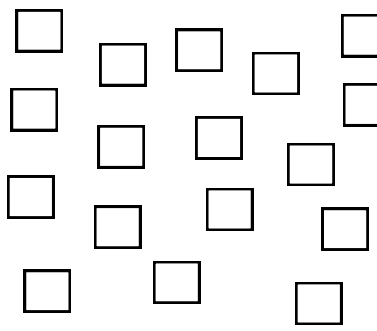
| | |
|----|---|
| 10 | 5 |
| D | U |
| | |



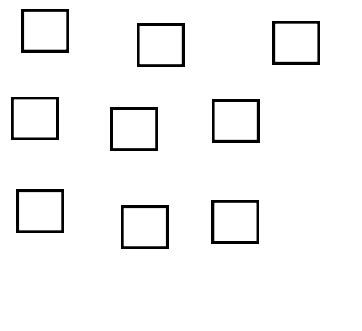
| | |
|----|---|
| 10 | 5 |
| D | U |
| | |



| | |
|----|---|
| 10 | 5 |
| D | U |
| | |



| | |
|----|---|
| 10 | 5 |
| D | U |
| | |



| | |
|----|---|
| 10 | 5 |
| D | U |
| | |

Hacemos gimnasia mental:

a) ¿Cuál es tu edad y cuántos años te faltan para llegar a una decena?

Respuesta: años

b) Sebastián tiene en una caja 16 chocolates. ¿Cuántas decenas y unidades tiene?

Respuesta: D U

c) Si tienes 10 paquetes de galletas y te regalan 6 paquetes. ¿Cuántas decenas y unidades tienes?

Respuesta: D U

d) Sergio tiene 1D 3U de canicas y Esteban tiene 17 canicas. ¿Quién tiene más canicas?

Respuesta:

e) ¿Cuál es el menor número donde la cifra de las decenas es igual a la cifra de las unidades?

Respuestas: