



TABLERO DE VALOR POSICIONAL

D	U

- Cuenta, forma decenas y ubica en el tablero de valor posicional T.V.P.

1.

1 decena 1 unidades

D	U

2.

___ decena ___ unidades

D	U

3.

___ decena ___ unidades

D	U

4.

___ decena ___ unidades

D	U

5.

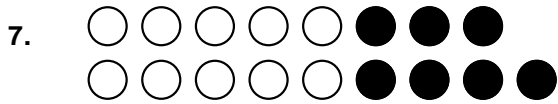
___ decena ___ unidades

D	U

6.

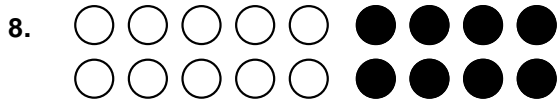
___ decena ___ unidades

D	U



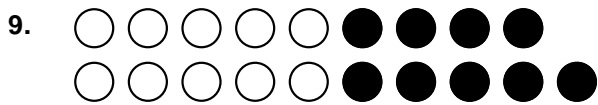
_____ decena _____ unidades

D	U



_____ decena _____ unidades

D	U



_____ decena _____ unidades

D	U

Hacemos gimnasia mental:

a) Pedro tiene 3 cuadernos. ¿Cuántos cuadernos le faltan para tener una decena?

Respuesta:

b) Jimena tiene 7 chocolates y Alejandra tiene una decena de chocolates. ¿Quién tiene más?

Respuesta:

c) Escribe 2 números que sumados den una decena.

Respuesta:

d) Enlaza tres números que sumados den una decena.

