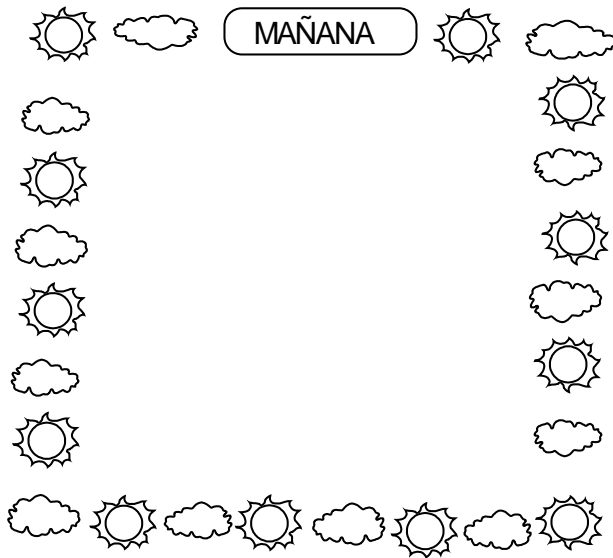




### EL DIA

El día se divide en MAÑANA, TARDE y NOCHE. La mañana empieza con el amanecer, la tarde con el mediodía y la noche cuando oscurece.

- Dibuja y pinta en los recuadros lo que más te gusta hacer en las mañanas y en las tardes.



#### Práctica de clase


Escribe V o F según corresponda

- El movimiento de rotación da lugar al día y a la noche ( )
- Si en el Perú esta de noche todo el planeta está de noche ( )
- El movimiento de rotación demora 24 horas ( )
- El sol es una estrella pequeña ( )
- La luna tiene dos fases ( )



TAREA DOMICILIARIA

01. Marca con una x el sol si la acción ocurre de día y la luna si ocurre de noche.



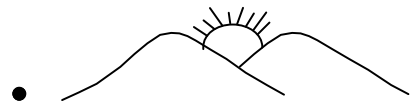
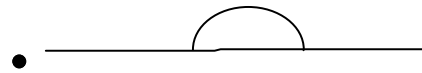

02. Lee y une con su respectivo dibujo:

Está amaneciendo •

El atardecer •

Noche •

Mediodía •



03. Traer para la próxima clase un almanaque de bolsillo

**¿QUÉ HAGO EN UN DÍA?**

0 Observa:




- **Contesta oralmente.**
  - ¿Qué actividades hace Lía antes de ir al colegio?
  - ¿Qué hace en el colegio?
  - ¿Qué hace después del colegio?
  - Y tú ¿qué haces en un día?
- Dibuja lo que haces antes y después del almuerzo.

**ANTES**




**DESPUÉS**




### ¿DÓNDE ESTÁ EL SOL?

- Escribe las palabras del recuadro donde corresponda:




El sol sale es el .....

.....



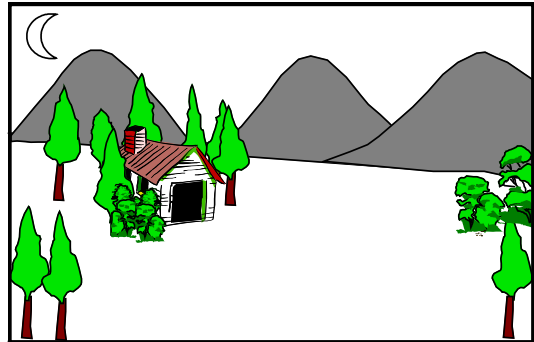
El sol está en el cielo es el .....

.....



El sol está ocultándose es el .....

.....



El sol se ha ocultado es la .....

.....

ATARDECER

MEDIODÍA

NOCHE

AMANECER