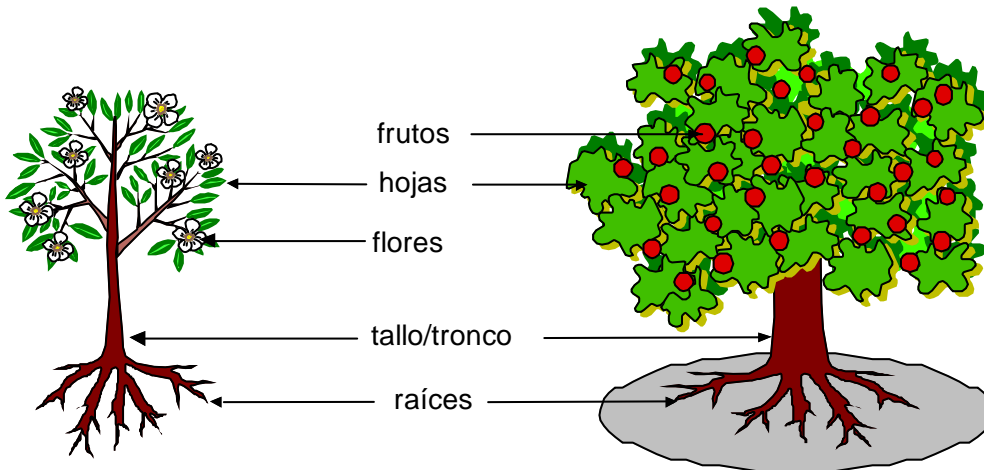




LAS PLANTAS

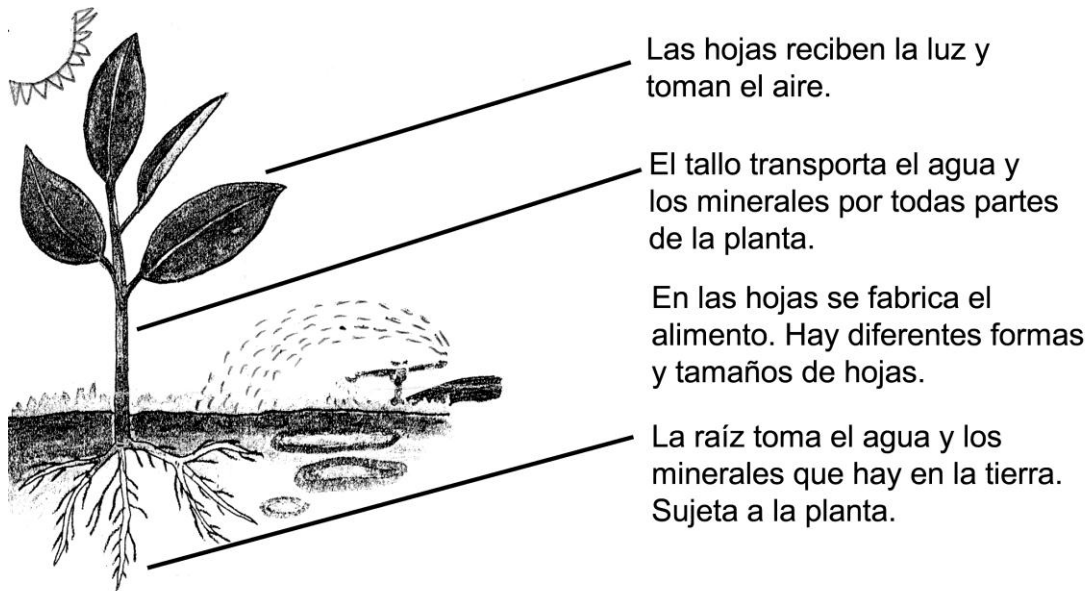
- Observa la ilustración de esta planta y sus partes.



- Cada parte de la planta cumple con una función importante.

Funciones de las Plantas

- Observa la siguiente ilustración. Lee lo que hace cada parte de la planta.



Las flores y las frutas ¿Qué hacen?

- Las flores son la parte más hermosa de la planta. No todas las plantas tienen flores.
- Las flores se encargan de la reproducción de las plantas.
- Hay diferentes formas, tamaños y colores de flores.
- Dentro de los frutos están las semillas (pepas); de la semilla nace la nueva planta. No todas las plantas tienen frutos.

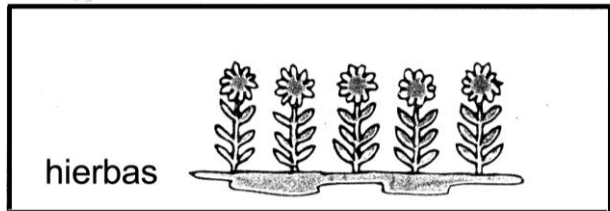


Cada una de las **partes** de la **planta** realiza un **trabajo especial**.

Clases de Plantas

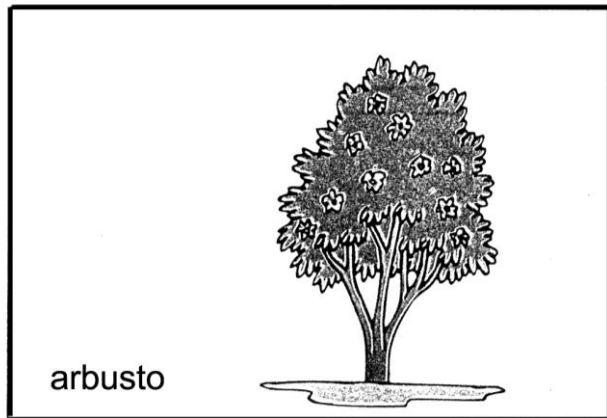
Existen diferentes clases de plantas según su forma y pueden ser:

Hierbas: Son las plantas pequeñas tienen tallo tierno y su duración es corta. Se utilizan también como mates de té por ejemplo: hierba luisa, hierba mate. También como condimento en la cocina: por ejemplo: perejil, culantro, hierba buena.




que

Arbusto: Son las plantas que tienen corto y está ramificado desde la base. altura es aproximadamente de 1 a 4 metros.



tallo
Su

Árbol: Son las plantas que pueden alcanzar gran altura, donde el tallo es llamado tronco por ser, grueso y está fijado al suelo a través de su raíz. A diferencia del arbusto, el árbol no presenta ramificaciones desde la base, tener un tronco largo, hasta cierta altura formar la copa del árbol.




por
para

Práctica de clase

1. Observa con atención ésta planta y une cada parte con el nombre que le corresponde:

Hojas

Tallo



Flores

Fruto

Raíz

2. Completa:

semilla

flor

raíz

hojas

- a) En los frutos se encuentra la de la nueva planta.
- b) Es la parte más hermosa de la planta:
- c) Absorbe el agua y minerales del suelo:
- d) Parte por la que respiran las plantas:

3. Marca la respuesta correcta:

- 1) Planta que tiene el tronco fuerte:
a) hierba b) arbusto c) árbol d) N.a.
- 2) Parte de la planta en que se fabrica el alimento:
a) tallo b) hojas c) flores d) raíz
- 3) Las plantas nacen de una:
a) hoja b) rama c) semilla d) N.a.
- 4) Sostiene y fija a la planta en el suelo:
a) raíz b) hojas c) flores d) hierbas
- 5) Es el órgano reproductor de la planta:
a) fruto b) raíz c) flor d) hojas
- 6) ¿Que parte de la planta se encarga de fabricar su alimento?
a) raíz b) hojas c) flores d) n.a.

Raíz




TAREA DOMICILIARIA

1. Coloca la letra que corresponde a cada número.

CLAVE

1	Z
2	L
3	A
4	I
5	R
6	S
7	O
8	H
9	J
10	T
11	N
12	C
13	F
14	U



2. Responde:

a) ¿Cuáles son las partes de la planta?

- a)
- b)
- c)
- d)
- e)

b) Escribe el ciclo de crecimiento de una planta:

- a)
- b)
- c)
- d)

3. En tu cuaderno escribe 3 ejemplos de hierbas, arbustos y árboles.