



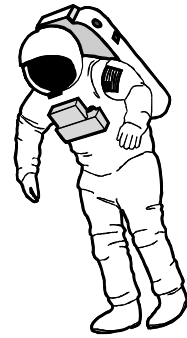
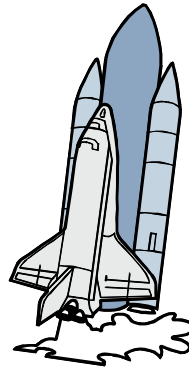
LA PRIMERA ASTRONAUTA

Lee atentamente:

Valentina Tereshkova nació en Maleniskovo (URSS) en 1937. A los 25 años, Valentina fue admitida junto con otras jóvenes en el "Centro de Entrenamiento para Cosmonautas de la Ciudad del Espacio".

Los entrenamientos fueron durísimos, pero Valentina superó con éxito todas las pruebas. Ella fue elegida entre sus compañeras para pilotear la nave espacial "Vostok VI", que fue lanzada al espacio el 16 de junio de 1963.

Fue la primera mujer que realizó un viaje espacial.



Ahora responde:


a) ¿Crees que las mujeres poseen las mismas capacidades que los hombres?

.....
.....

b) ¿Sabes de otras mujeres que hayan hecho viaje espaciales?


.....
.....

c) Descubre el nombre de los astros a los que se refiere la mascota astronauta..




Gracias a esta estrella hay vida en la tierra

.....



Viajan alrededor del Sol y tiene una cola brillante

.....



Giran alrededor del Sol

.....

Recuerda:

A las estrellas, planetas, satélites, cometas, etc., los llamamos astros.

Sabías que: La palabra cometa proviene del griego y significa cabellera.



TAREA DOMICILIARIA

01. Responde:

a) ¿Cómo está formado nuestro planeta?

.....
.....

b) ¿Qué origina el movimiento de rotación de la tierra?

.....
.....

c) ¿Qué origina el movimiento de traslación de la tierra?

.....
.....

d) ¿Qué nombre recibe el satélite de la tierra?

.....

02. Completa las oraciones con las estaciones del año.

a) Estación en la cual los campos florecen

b) Época que se caracteriza por ser muy fría

c) Esta estación se inicia en diciembre

d) Época cuyo clima es templado

03. Relaciona las tres columnas.

CAPA GASEOSA

LITOSFERA

AIRE

CAPA LÍQUIDA

ATMÓSFERA


SUELO

CAPA SÓLIDA

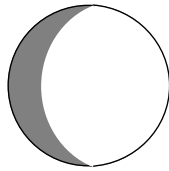
HIDRÓSFERA

AGUA


04. Observa las fases de la luna y luego completa el esquema.



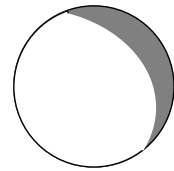
Luna nueva



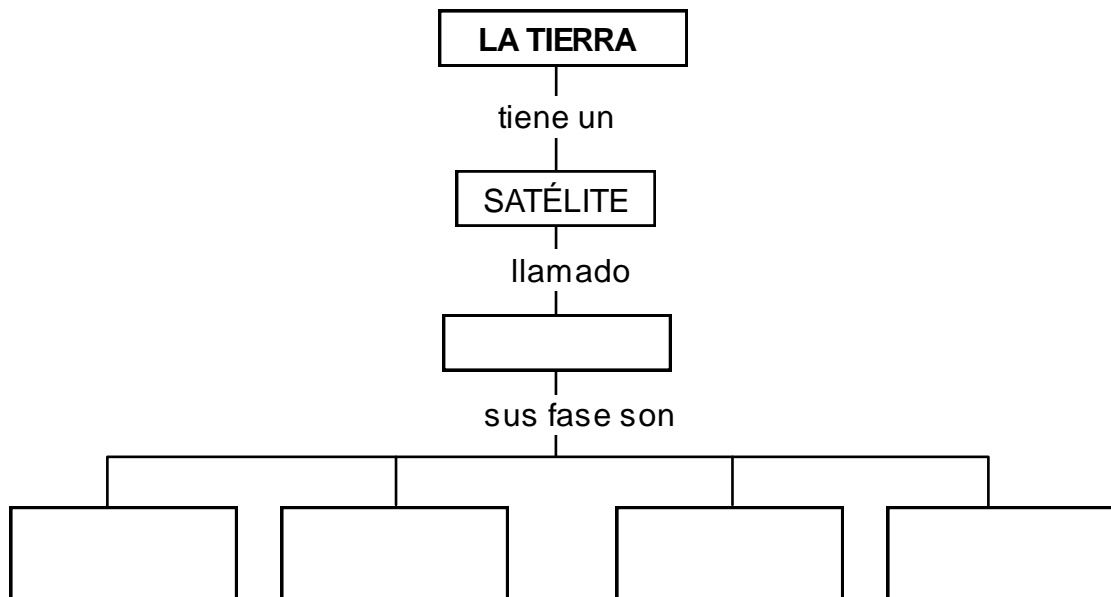
Cuarto Creciente



Luna Llena



Cuarto Menguante



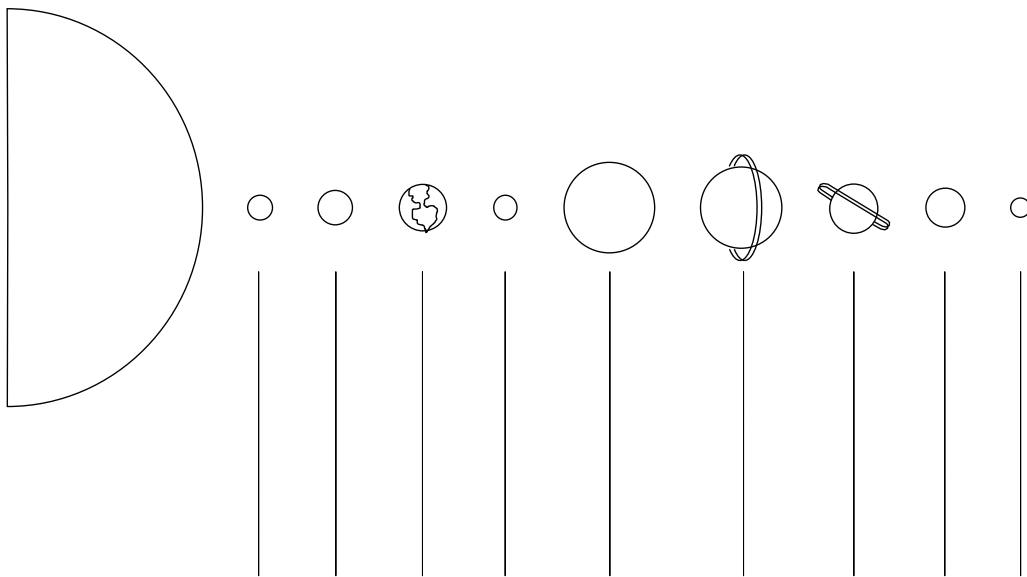
05. Escribe el nombre de los astros que conforman el sistema solar.

.....
.....

06. Escribe los nombres de los planetas comenzando por aquel que está más cerca del sol.

.....
.....
.....

07. Escribe el nombre de los planetas:



08. Escribe V si la afirmación es verdadera y F si es falsa.

- En el sistema planetario hay 5 planetas.
- El Sol es el centro del sistema Solar.
- La Luna es el satélite de la Tierra.
- Las fases lunares son Tres.
- El planeta que está más cerca del Sol es Mercurio.
- Los Cometas son cuerpos luminosos de cola brillante.

Autoevaluación

Califícate pintando una carita 😊 o una ☹️

- Me interesé por los temas tratados
- Cumplí con lo que me asignaron
- Participé con entusiasmo