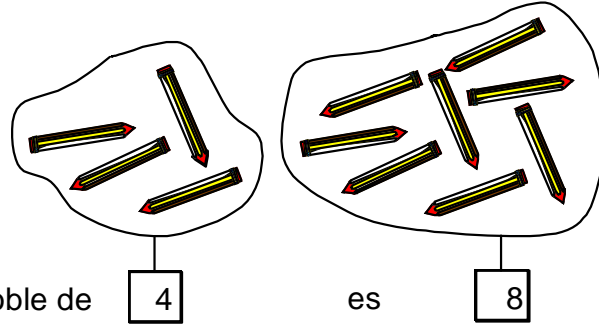




### EL DOBLE DE UN NÚMERO

Observa los gráficos:

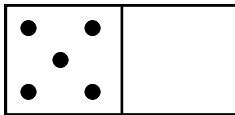


El doble de 4 es 8, porque  $4 + 4 = 8$  ( $4 \times 2 = 8$ ).

#### Conozco...

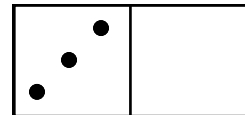
Para hallar el doble de un número, se suman dos veces dicho número o se multiplica por 2 el número dado.

1. Completa.



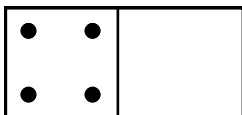
$5 + 5 = \dots\dots\dots$

El doble de 5 es.....



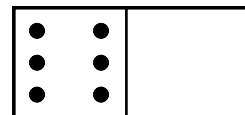
$3 + 3 = \dots\dots\dots$

El doble de 3 es.....



$4 + 4 = \dots\dots\dots$

El doble de 4 es.....



$6 + 6 = \dots\dots\dots$

El doble de 6 es.....

2. Escribe el doble de:

El doble de 9 es.....

El doble de 5 es.....

El doble de 7 es.....

El doble de 8 es.....

El doble de 6 es.....

El doble de 3 es.....

El doble de 2 es.....

El doble de 12 es.....

El doble de 1 es.....

El doble de 4 es.....

3. Halla el doble de los siguientes números.

El doble de 12 es 24 porque 2 x 12 = 24

El doble de 9 es  porque 2 x  =

El doble de 16 es  porque 2 x  =

El doble de 25 es  porque 2 x  =

El doble de 32 es  porque 2 x  =

El doble de 45 es  porque 2 x  =

El doble de 8 es  porque 2 x  =

El doble de 60 es  porque 2 x  =

El doble de 15 es  porque 2 x  =

El doble de 20 es  porque 2 x  =

El doble de 5 es  porque 2 x  =

El doble de 17 es  porque 2 x  =

El doble de 40 es  porque 2 x  =

El doble de 10 es  porque 2 x  =

4. Escribe en los recuadros el doble de los numerales:

14 →   
 13 →   
 21 →

7 →   
 32 →   
 25 →

18 →   
 24 →   
 16 →

5. Une cada número con su doble:

- |       |       |
|-------|-------|
| 60 •  | • 200 |
| 100 • | • 120 |
| 24 •  | • 60  |
| 13 •  | • 48  |
| 25 •  | • 26  |
| 30 •  | • 50  |

6. Lee atentamente y completa los espacios en blanco según lo que te pidan:

- a) El doble de 9 es .....
- b) El doble de 234 es .....
- c) ..... es el doble de 23
- d) ..... es el doble de 14
- e) ..... es el doble de 19
- f) 48 es el doble de .....
- g) 20 es el doble de .....
- h) 64 es el doble de .....
- i) El doble de ..... es 12
- j) El doble de ..... es 18
- k) El doble de 3, menos 4 es .....

7. Completa la serie con el doble del último número:

2; 4; 8;.....;.....;.....;.....

8. Escribe “si” cuando encuentres el número y su doble:

- |               |             |
|---------------|-------------|
| 18 → 36 ( )   | 25 → 75 ( ) |
| 14 → 24 ( )   | 28 → 46 ( ) |
| 100 → 200 ( ) | 31 → 62 ( ) |

9. Marca la respuesta correcta:

A. El doble de 350 es:

- a) 70                      b) 600                      c) 700                      d) 60

B. El doble de 3 decenas es:

- a) 36                      b) 6                      c) 60                      d) 9

C. El doble de 3, menos 4 es:

- a) 6                      b) 14                      c) 7                      d) 2

D. El doble de 4, más el doble de 1 es:

- a) 10                      b) 9                      c) 8                      d) 11

E. El doble de 2 centenas, menos el doble de 1 decena es:

- a) 1                      b) 380                      c) 220                      d) 100



**TAREA DOMICILIARIA:**

1. Halla el doble de los siguientes números:

El doble de 16 es  porque  x  =

El doble de 8 es  porque  x  =

El doble de 45 es  porque  x  =

El doble de 17 es  porque  x  =

2. Escribe en los recuadros el doble de los numerales:

19 →

250 →

200 →

50 →

150 →

80 →