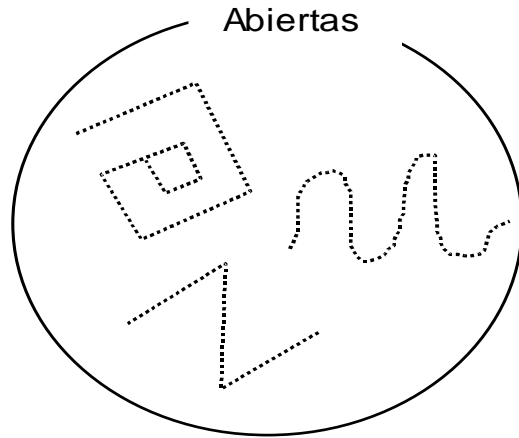
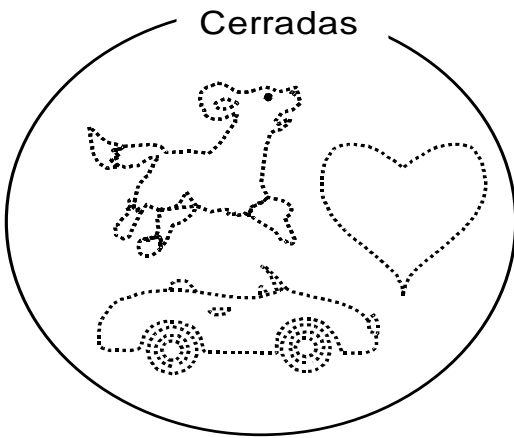





LINEAS Y CURVAS

LÍNEAS Y CURVAS CERRADAS Y ABIERTAS:

1. Repasa las líneas y curvas de las figuras en cada conjunto:




2. Repasa con color verde las líneas y curvas abiertas y con color rojo las cerradas:



FIGURAS GEOMÉTRICAS:

Tenemos:



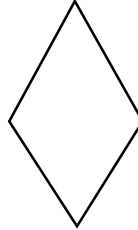
Círculo



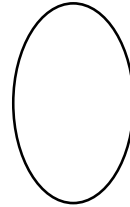
Cuadrado



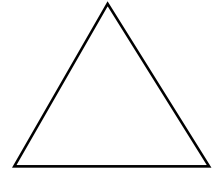
Rectángulo



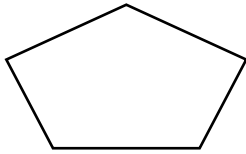
Rombo



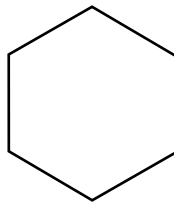
Oval



Triángulo



Pentágono




Hexágono


- Existen diferentes formas de las figuras geométricas.

Practica de clase

1. Repasa las líneas con el color que corresponda según, su forma:



→ Rojo



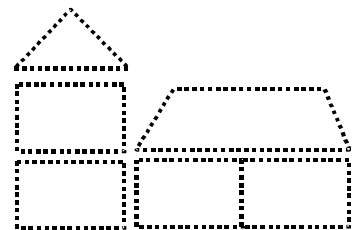
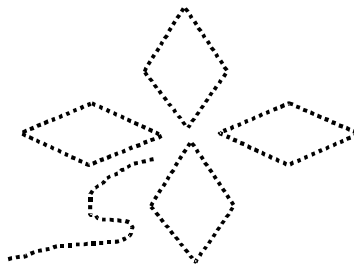
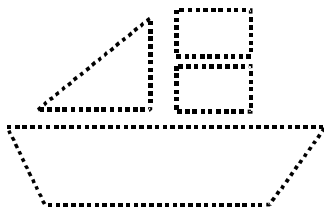
→ Azul



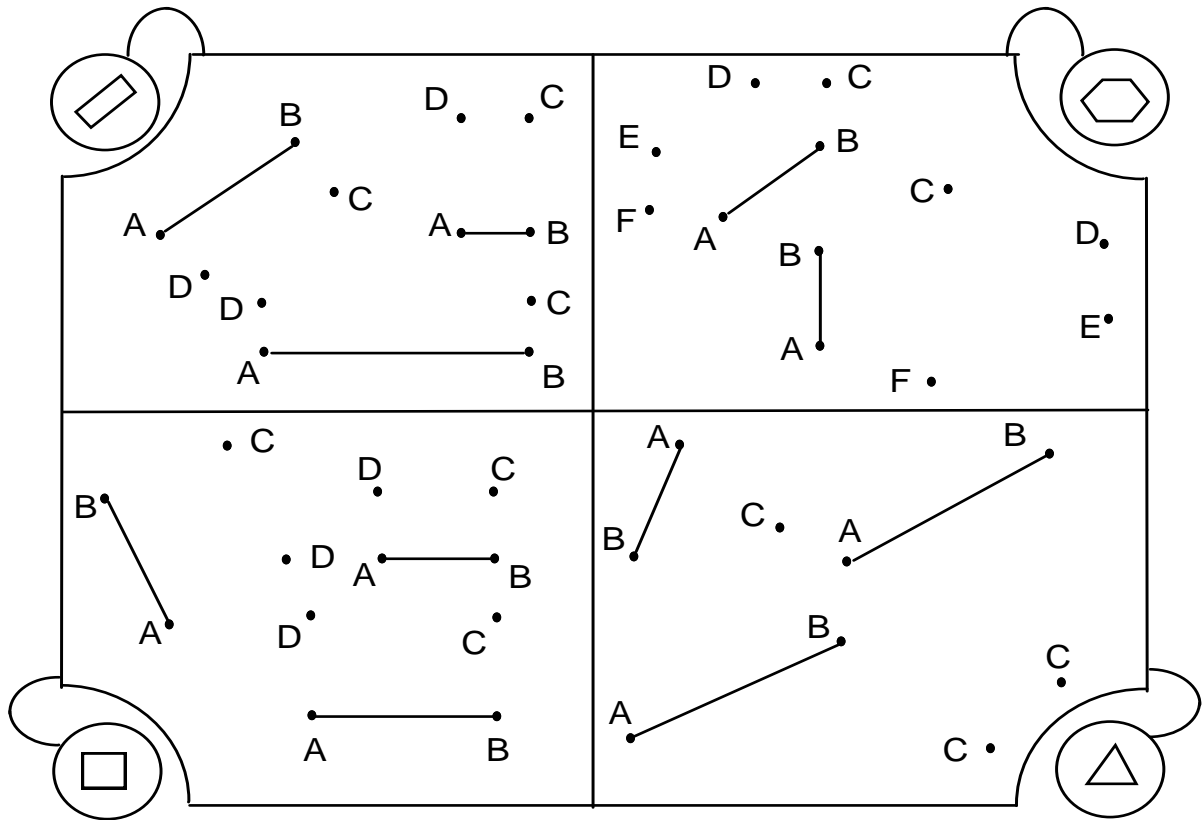
→ Anaranjado



→ Verde

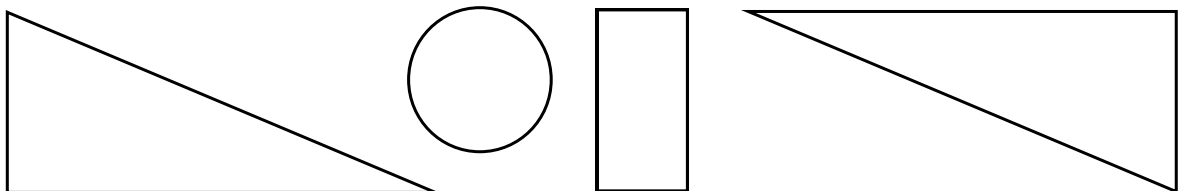


2. Forma figuras como las que hay en cada etiqueta, uniendo con líneas los puntos del mismo color:

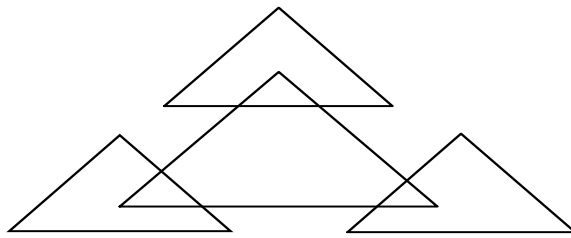


PIENSO Y RESUELVO:


1. Pinta dos de estas figuras que unidas completan exactamente el interior del rectángulo:



2. Encuentra las figuras escondidas:

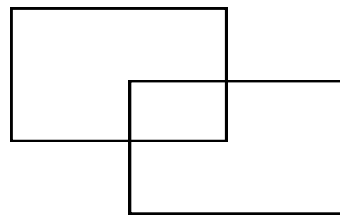


Cuantos  hay?

Hay 

Cuantos  hay?

Hay 



3. Lee y marca la respuesta.

1. El triángulo tiene:

a) 4 lados

b) 3 lados

c) 5 lados

2. Figura que tiene sus lados desiguales:

a) círculo

b) cuadrado

c) rectángulo

3. Figura que tiene sus lados iguales

a) círculo

b) cuadrado

c) triángulo

4. Figura de seis lados:

a) Pentágono

b) Cuadrado

c) Hexágono



TAREA DOMICILIARIA

01. Dibuja 3 líneas o curvas abiertas y 3 líneas o curvas cerradas.

Líneas Abiertas	Líneas Cerradas

02. Con estas figuras, dibuja y colorea:

Un barco	Una casa
